

સામયિક મૂલ્યાંકન પુનઃ કસોટી

શાળાનું નામ:-

ધોરણ:- ૫ [પાંચ]

કુલ ગુણ:-૨૫

વિષય:- ગણિત

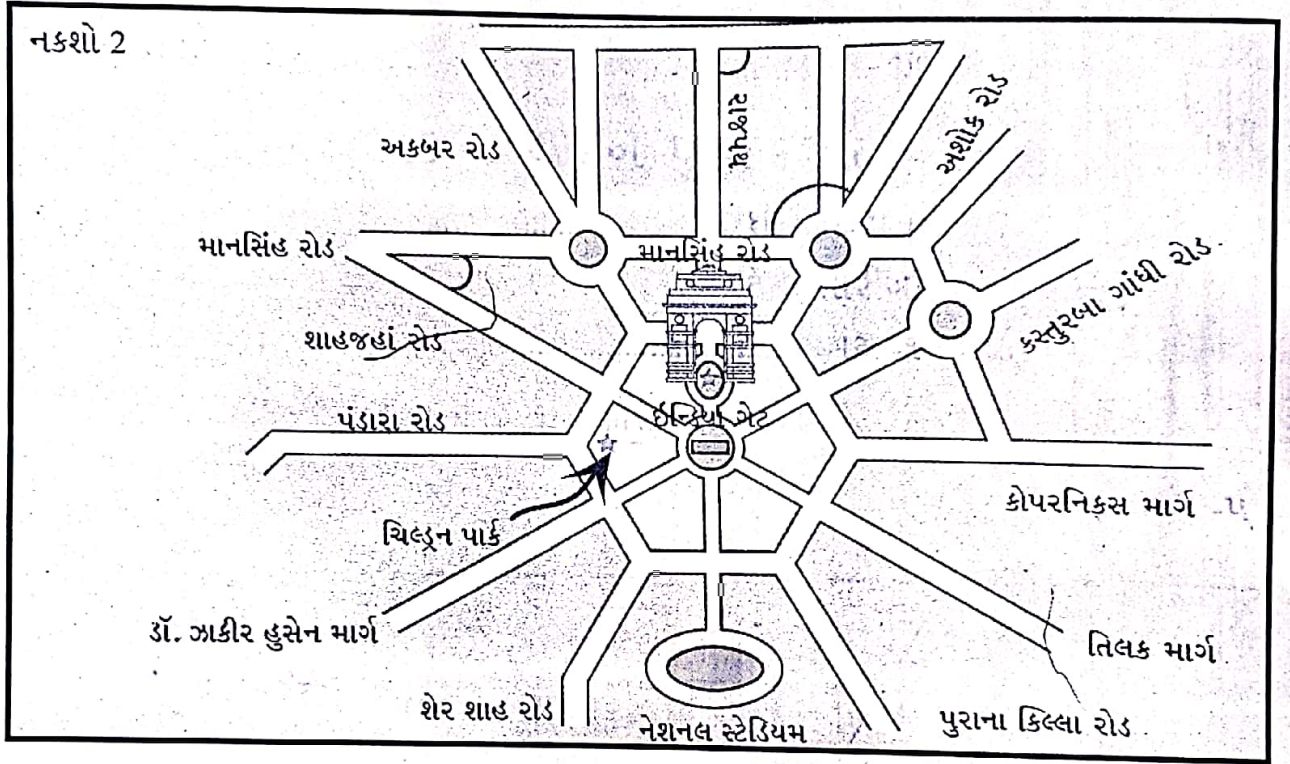
ટેસ્ટ તારીખ:- ૧૪/૧૨/૨૦૧૯

વિદ્યાર્થીનું નામ:- સમય:-૧ કલાક

અધ્યયન નિષ્પત્તિ:- નકશા પરથી પ્રશ્નોના જવાબ આપે છે.

પ્રશ્ન-૧ આપેલ નકશા પરથી પ્રશ્નોના જવાબ આપો.

ગુણ:-૫



૧ જો તમે રાજપથ ચાલી રહ્યા હોય તો ઇન્ડિયા ગેટ પછી તમારી કઈ બાજુ ચિલ્ડ્રન પાર્ક આવેલો છે ?

જમણી બાજુ આવેલો છે.

૨ નીચે આપેલ રસ્તાઓની જોડમાંથી કઈ જોડ સૌથી મોટો ખૂણો બનાવે છે ?

(અ) માનસિંહ રોડ અને શાહજહાં રોડ

(બ) અશોક રોડ અને માનસિંહ રોડ

(ક) માનસિંહ રોડ અને રાજપથ

(બ) અશોક રોડ અને માનસિંહ રોડ

૩ ઉપર આપેલ રસ્તાઓની જોડમાંથી કઈ જોડ કાટખૂણો બનાવે છે ?

માનસિંહ રોડ અને રાજપથ

૪ તિલક માર્ગથી માનસિંહ રોડ જતાં વચમાં કયો ગેટ આવે ?

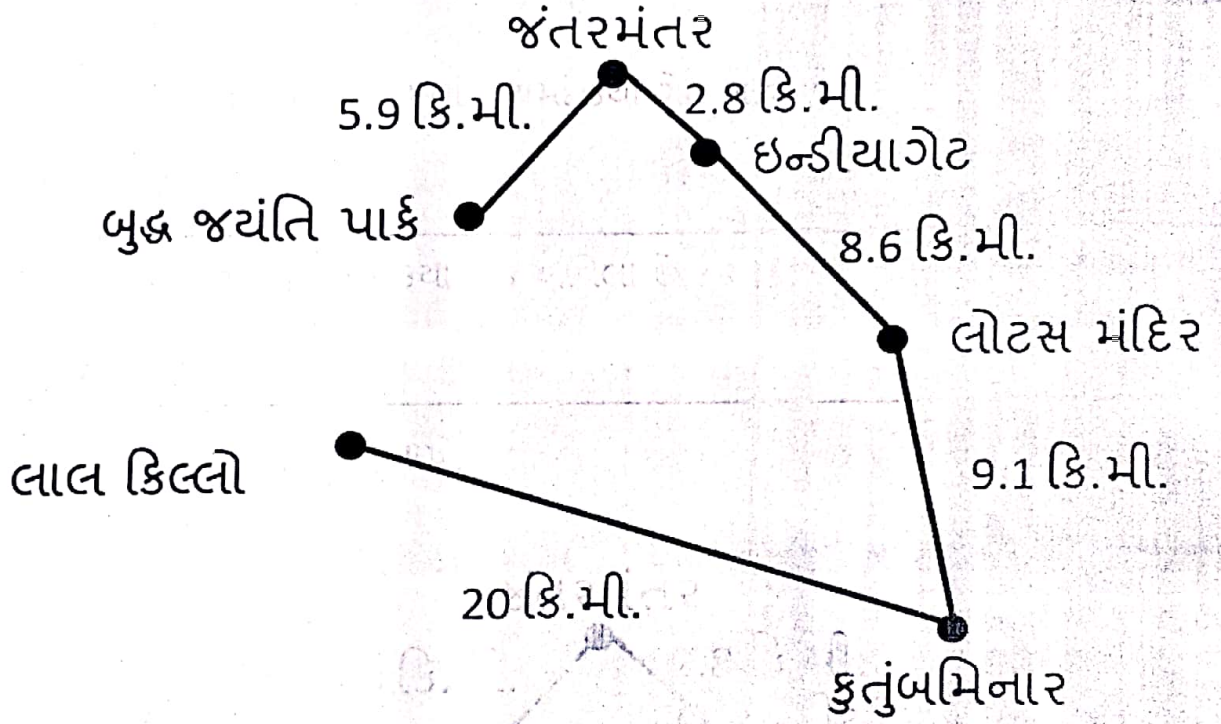
ઈન્ડિયા ગેટ આવે

૫ નેશનલ સ્ટેડીયમની બાજુમાં કયા રોડ આવેલા છે ?

શેરે શાહ રોડ અને પુરાણા કિલ્લા રોડ

પ્રશ્ન-૨ નકશો જોઈ પ્રશ્નોના જવાબ આપો.

ગુણ:-૬



૧ નકશામાં કુતુંબમિનારથી લોટસ મંદિર થઈ ઈન્ડિયા ગેટ પહોંચતા કેટલા કિમી થાય ?

9.1 કિ.મી + 8.6 કિ.મી = 17.7 કિ.મી થાય

૨ બુદ્ધ જયંતિ પાર્ક થી જંતરમંતરનું અંતર અને કુતુંબમિનારથી લોટસ મંદિરનું અંતર આ બે અંતરમાં કયું અંતર ઓછું છે ?

બુદ્ધ જયંતિ પાર્ક થી જંતરમંતર

૩ ભરત ઈન્ડિયા ગેટ થી લોટસ મંદિર જાય છે જ્યારે રમીલા કુતુંબમિનારથી લોટસ મંદિર જાય છે કોણે વધારે અંતર કાપ્યું હશે ?

રમીલાએ વધારે અંતર કાપ્યું.



૧ પોરબંદર જિલ્લાને કયા કયા જિલ્લાની હદ અડે છે.

દેવભૂમિ ધારકા, જામનગર, રાજકોટ, જૂનાગઢ

૨ વલસાડથી ભરૂચ જતાં કયા કયા જિલ્લામાંથી પસાર થવું પડે ?

નવસારી અને સુરતમાંથી પસાર થવું પડે

૩ ભાવનગરથી જૂનાગઢ કઈ દિશામાં આવેલું છે ?

પશ્ચિમ દિશામાં આવેલું છે

૪ અમદાવાદથી બનાસકાંઠા જવા માટે કઈ દિશામાં મુસાફરી કરવી પડે ?

ઉત્તરદિશામાં મુસાફરી કરવી પડે



૫ પાટણની ઉત્તર દિશાએ કયો જિલ્લો આવેલો છે ?

બનાસકાંઠા જિલ્લો આવેલો છે

અધ્યયન નિષ્પત્તિ:- પ્રમાણમાપની મદદથી ચિત્રો અને નકશાને નાના કે મોટા સ્વરૂપે દોરે છે.

અંહી 1 સેમી માપવાળી જાળી પર ફળ દોરેલ છે આ ફળ બાજુમાં આપેલ 2 પ્રશ્ન-૪ સેમી માપવાળી જાળીમાં દોરો. તમે દોરેલ ફળ નું ચિત્ર મૂળ ચિત્ર કરતાં કેટલું ગણું થાય ?

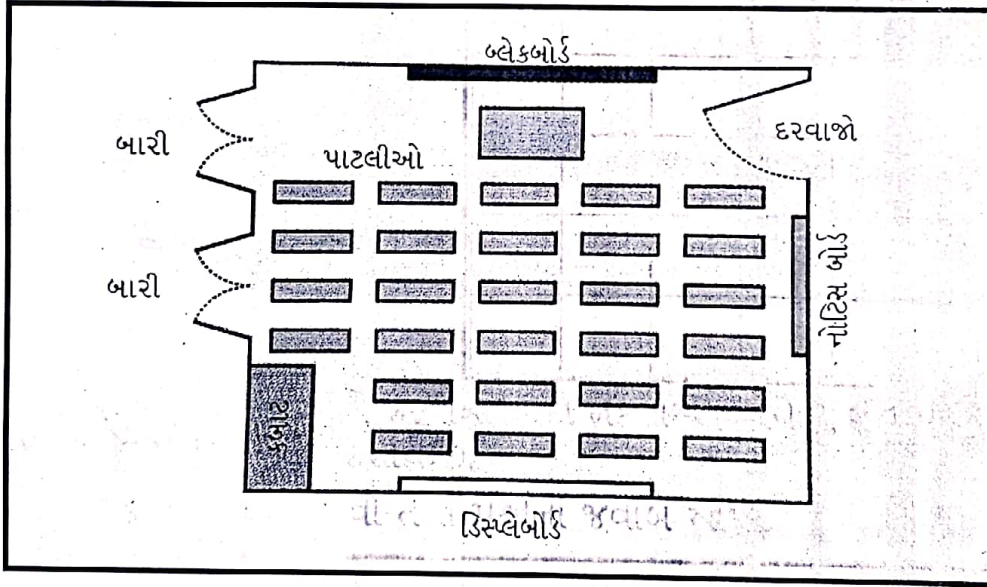
ગુણ:-૪



અધ્યયન નિષ્પત્તિ:- ઘર, વર્ગખંડ અને શાળાના સાદા નકશાઓમાં ચિત્રો, સંજ્ઞાઓ, દિશાના આધારે કોઈ વસ્તુ કે સ્થળનું સ્થાન દર્શાવે છે.

પ્રશ્ન-૫ આપેલ નકશાને ધ્યાનથી જૂવો તથા પ્રશ્નોનાં જવાબ આપો.

ગુણ:-૫



૧ કબાટની નજીક કયું બોર્ડ છે ?

ડિસ્પે બોર્ડ દો

૨ દરવામાં પ્રવેશતા જમણી બાજુ કયું બોર્ડ છે ?

બ્લેક બોર્ડ દો

૩ બ્લેકબોર્ડની બરાબર સામે કયું બોર્ડ છે ?

ડિસ્પે બોર્ડ ડિસ્પેબોર્ડ દો

૪ દરવાજામાં પ્રવેશતા નોટિસબોર્ડ તરફ જવા કઈ બાજુમાં જવું પડે ?

ડાબી બાજુ જવું પડે

૫ પાટલીઓની સંખ્યા કેટલી છે ?

૨૮ પાટલીઓ દો